


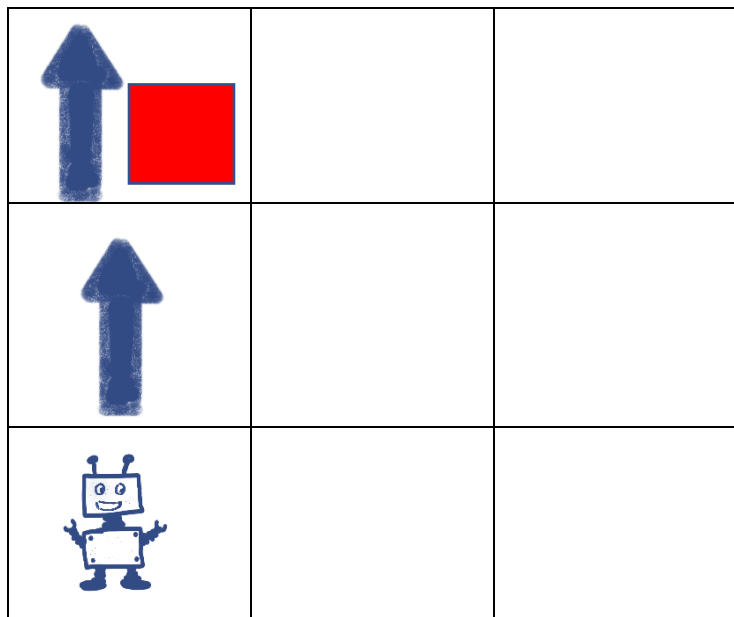
Arbejdsark: Robot-kort

Pile til udklip




## Arbejdsark: Robot-kort – eksempel

Hvordan vil du placere pilene så robotten kan komme hen til feltet med firkanten?

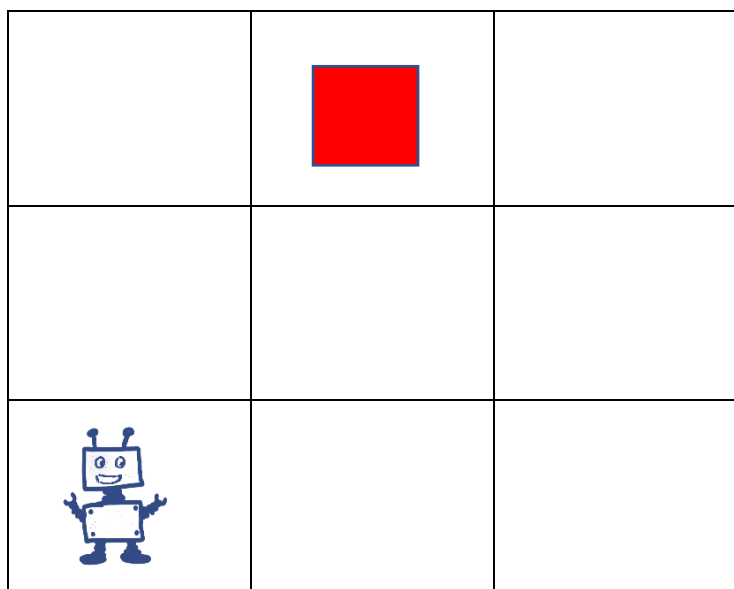


Tegn hvilke pile du vil bruge herunder:



## Arbejdsark: Robot-kort 1

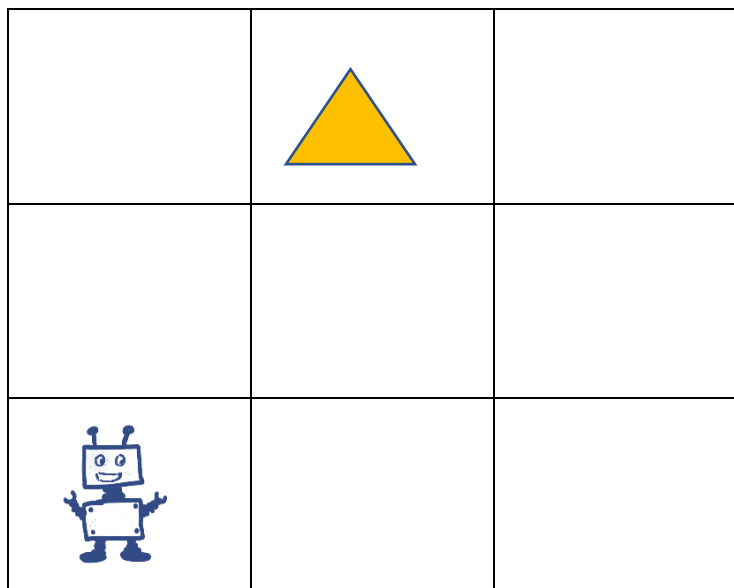
Hvordan vil du placere pilene så robotten kan komme hen til feltet med firkanten?



Tegn hvilke pile du vil bruge herunder:

## Arbejdsark: Robot-kort 2

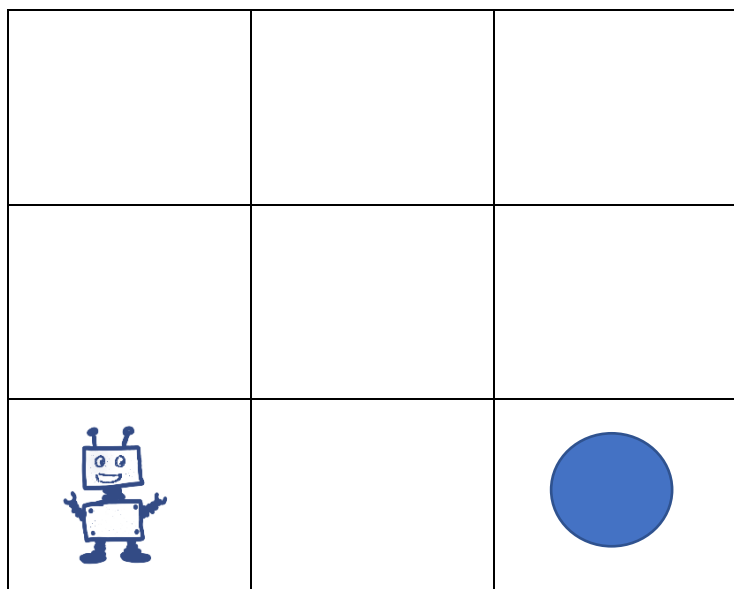
Hvordan vil du placere pilene så robotten kan komme hen til feltet med trekanten?



Tegn hvilke pile du vil bruge herunder:

## Arbejdsark: Robot-kort 3

Hvordan vil du placere pilene så robotten kan komme hen til feltet med cirklen?




Tegn hvilke pile du vil bruge herunder:

## Arbejdsark: Robot-kort 4

Hvordan vil du placere pilene så robotten kan komme hen til det rigtige facit?

$$2+4=$$


|   |  |  |   |
|---|--|--|---|
|   |  |  |   |
| 7   |  |  |   |
|   |  |  | 6 |
|  |  |  |   |

Tegn hvilke pile du vil bruge herunder:

## Arbejdsark: Robot-kort 5

Hvordan vil du placere pilene så robotten kan komme hen til det rigtige facit?

$$5+5=$$


|   |    |  |   |
|---|----|--|---|
|   | 10 |  |   |
|   |    |  |   |
|   |    |  | 6 |
|  |    |  |   |

Tegn hvilke pile du vil bruge herunder:

## Arbejdsark: Robot-kort 6

Hvordan vil du placere pilene så robotten kan komme hen til det rigtige facit?

$$3+5=$$


|   |   |  |   |
|---|---|--|---|
|   |   |  | 8 |
|   |   |  |   |
|   | 7 |  |   |
|  |   |  | 9 |



Tegn hvilke pile du vil bruge herunder:



## Arbejdsark: Robot-kort 7

Kommer robotten hen til trekanten ved at følge pilene?






|   |   |  |
|---|---|--|
|   |  |  |
|   |   |  |
|  |   |  |

Passede pilene? Hvordan vil du løse opgaven?

## Arbejdsark: Robot-kort 8

Kommer robotten hen til cirklen ved at følge pilene?



|   |  |   |
|---|--|---|
|   |  |   |
|   |  |   |
|  |  |  |

Passede pilene? Hvordan vil du løse opgaven?

Arbejdsark: Robot-kort

|  |  |  |
|--|--|--|
|  |  |  |
|  |  |  |
|  |  |  |

|  |  |  |
|--|--|--|
|  |  |  |
|  |  |  |
|  |  |  |

|  |  |  |  |
|--|--|--|--|
|  |  |  |  |
|  |  |  |  |
|  |  |  |  |
|  |  |  |  |

|  |  |  |  |
|--|--|--|--|
|  |  |  |  |
|  |  |  |  |
|  |  |  |  |
|  |  |  |  |

|  |  |  |  |  |
|--|--|--|--|--|
|  |  |  |  |  |
|  |  |  |  |  |
|  |  |  |  |  |
|  |  |  |  |  |
|  |  |  |  |  |